





Correct: +2

11 खालील वाक्यातील उद्देश ओळखा.
वाघाच्या डरकाळीने सारे जंगल दणाणून गेले.

- वाघाच्या डरकाळीने
- सारे जंगल
- सारे जंगल दणादणून गेले.
- दणाणून गेले.

Correct: +2

75 गोबरगॅस वापरणारी घरे किती?

इंधन (Fule)	इंधन वापरणारी घरे (Fule consumer House)
गॅस (Gas)	
केरोसीन (Kerosene)	
लाकूड (Wood)	
गोबर गॅस (Bio Gas)	

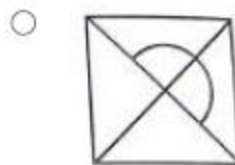
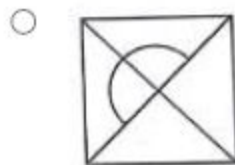
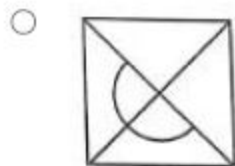
Answer the following questions on the basis of information given in the table. The information about the houses who use the different types of fuel for cooking in the village of 110 houses

How many houses consume Bio gas?

- 10
- 20
- 30
- 40

123 प्रश्नाकृतीचे पाण्यातील प्रतिबिंब ओळखा.

Identify water reflection and select the proper alternative.



145 एका सांकेतिक भाषेत 123 = CAT, 528 = BAG व 398 = COG तर 523 =?

(सूचना : अंक व अक्षरांचा क्रम सारखा असेलच असे नाही)

In certain code language if 123 =CAT, 528 = BAG and 398 = COG then 523 =?

(Note : Number or letter may not be in same order)

- BAT
- COT
- BAC
- AOG

149 क = □, त = △, न = + व र = 卐 तर 'रतन' या शब्दासाठी कोणते चिन्ह वापराल

If 'L = □, A = △, T = + and E = 卐 then 'TEA' is represented as

△卐+

卐△□

卐△□

△卐□